

وقت: 10 منٹ

واقفیت عامہ (دوم) ٹیسٹ نمبر 4

کل نمبر: 10



تیسرا مہینا، چوتھا ہفتہ، چوتھا دن **اسلیبس**: باب نمبر 8: مشق سوال نمبر 3, 4, 5

(2) سوال نمبر 1۔ جنگل میں رہنے والے دو جانوروں کے نام بتائیں۔


(i) _____

(ii) _____

سوال نمبر 2۔ نیچے دی گئی تصاویر کو غور سے دیکھیں اور دی گئی جگہ پر لکھیں کہ یہ کس جانور کے رہنے کی جگہ ہے؟ (3x2=6)



(2) سوال نمبر 3۔ اگر آپ گھر میں مرغیاں رکھنا چاہیں تو ان کے رہنے کا کیا بندوبست کریں گے؟



وقت: 10 منٹ

واقفیت عامہ (دوم) ٹیسٹ نمبر 4

کل نمبر: 10




تیسرا مہینا، چوتھا ہفتہ، چوتھا دن **اسلیبس**: باب نمبر 8: مشق سوال نمبر 3, 4, 5

(2) سوال نمبر 1۔ جنگل میں رہنے والے دو جانوروں کے نام بتائیں۔

(i) _____

(ii) _____

سوال نمبر 2۔ نیچے دی گئی تصاویر کو غور سے دیکھیں اور دی گئی جگہ پر لکھیں کہ یہ کس جانور کے رہنے کی جگہ ہے؟ (3x2=6)



(2) سوال نمبر 3۔ اگر آپ گھر میں مرغیاں رکھنا چاہیں تو ان کے رہنے کا کیا بندوبست کریں گے؟